

Problemas sobre vectores

Miguel Hernández-Canales¹

¹Instituto Tecnológico Superior Zacatecas Occidente

March 8, 2018

Abstract

En el presente documento se presentan y se ilustran diferentes problemas de vectores como son la suma, multiplicación y los componentes de los vectores

1.- ¿Cuáles son (a) la componente x y (b) la componente y de un vector a a en el plano xy si su dirección es de 250deg en sentido antihorario desde la dirección positiva del eje x y su magnitud es de 7.3 m?

En primer lugar conocemos el valor de la hipotenusa que es de 7.3 m

El ángulo es de 250deg en sentido anti horario

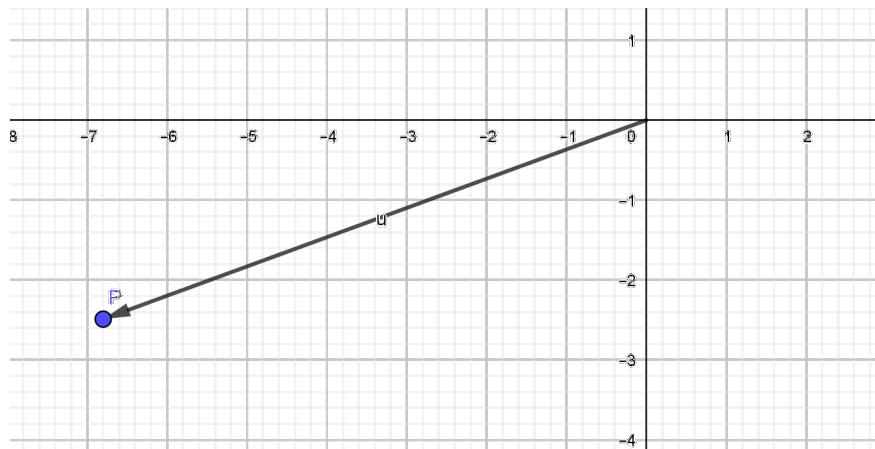
Utilizando el teorema de pitagoras se sabe el cateto opuesto (y) es igual a la hipotenusa por el seno del ángulo

$$C.O = H \text{ Sen } \vartheta \quad C.O = (7.3) (\text{Sen } 250^\circ) = -6.85 \text{ m}$$

De igual manera se sabe que el cateto adyacente (x) es igual a la hipotenusa por el coseno del ángulo

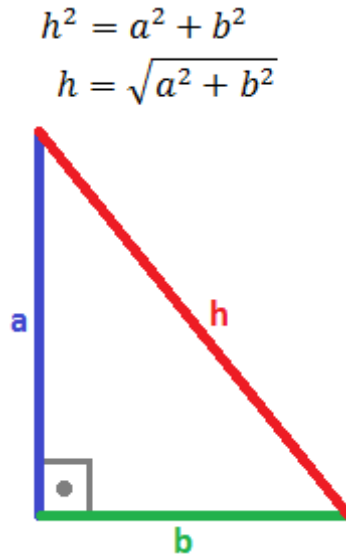
$$C.A = H \text{ Cos } \vartheta \quad C.O = (7.3) (\text{Cos } 250^\circ) = -2.49$$

Por lo tanto- 6.85 es el componente en “y” y -2.49 es el componente e “x”



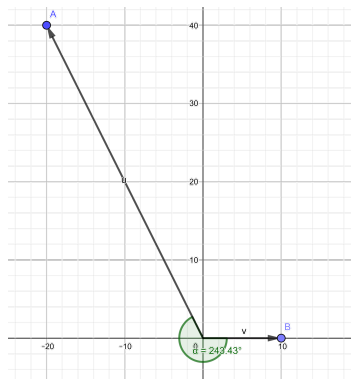
2.- La componente x del vector A es -25.0 m y la componente y es 40.0 m. (a) ¿Cuál es la magnitud de A?
 (b) Cual es el angulo entre la direccion de A y la direccion positiva de x?

Siguiendo el teorema de pitagoras se dice que el cuadrado de la hipotenusa es igual a la suma de los cuadrados de los catetos entonces



$h = \text{raiz cuadrada de } ((-25)^2 + (40)^2) = 47.16$ es la magnitud del vector

Por otro lado el valor del angulo $\vartheta = \text{Tan-1}(ay/ax) = \text{Tan-1}(-20 / 40) = -26.56$ pero este es el valor dado del eje y hacia donde abre el vector es por eso que a los 90° del angulo agudo se le suman los 26.56 grados para obtener el valor de angulo que abre desde el eje x en sentido antihorario que es de 116.56



3.- Dados los siguientes vectores: $a=4\hat{i}-3\hat{j}+\hat{k}$ y $b=-\hat{i}+\hat{j}+4\hat{k}$ Calcule (a . b) y (a x b)

(a.b)= El producto punto se define como $A_xB_x + A_yB_y + A_zB_z$ para los vectores 3D y para los vectores de dos dimensiones se definen como $A_xB_x+A_yB_y$

Tenemos que :

$$A_x=4 \quad A_y= -3 \quad A_z=1 \quad B_x= -1 \quad B_y=1 \quad B_z= 4$$

Sustituyendo en la formula $(a.b) = (4)(-1) + (-3)(1) + (1)(4) = -4 -3 +4 = -3$ por lo tanto el producto punto de los vectores A y B es $-3 + (-3)(1) + (1)(4) = -4 -3 +4 = -3$ por lo tanto el producto punto de los vectores A y B es $-3 +$

$(a \times b)$ = El producto cruz esta definido como $(a \times b) = i(A_y B_z - A_z B_y) - j(A_x B_z - A_z B_x) + k(A_x B_y - A_y B_x)$

Sustituyendo en la formula

$$(a \times b) = i [(-3)(4) - (1)(1)] - j[(4)(4) - (1)(-1)] - k[(4)(4) - (1)(-1)] = i[-12 - 1] - j[16+1] + k[4-3] = -13i -17j + k$$

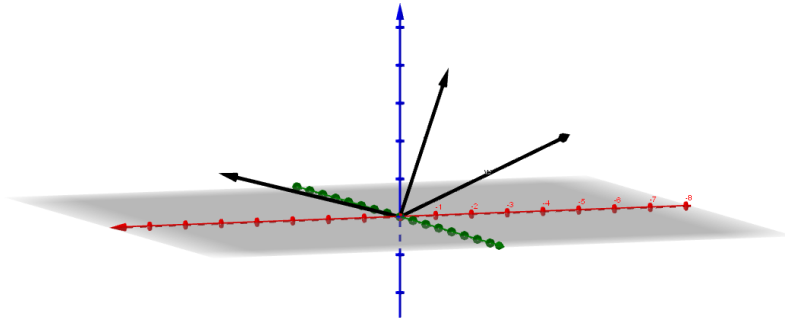


Figure 1: Th